








Γεια σας παιδιά. Έχω ένα πρόβλημα και χρειάζομαι τη βοήθειά σας. Θέλω να καταγράψω πόσα είναι αυτά που βλέπω στην εικόνα.

- Κοίταξε την εικόνα
- Μέτρησε πόσα έχει από το κάθε είδος
- Ζήτησε από κάποιον ενήλικα να σε βοηθήσει να φτιάξεις σε μια κόλλα το ραβδόγραμμα (βλέπε εικόνα)
- Ζωγράφισε σε κάθε στήλη τόσα κουτάκια όσα είναι αυτά που βλέπεις

• **Απάντησε τις ερωτήσεις**

- Ποια στήλη έχει τα περισσότερα;
- Ποια στήλη έχει τα λιγότερα;
- Πόσες περισσότερες είναι οι μέλισσες από τις πασχαλίτσες;
- Πόσοι λιγότεροι είναι οι λαγοί από τα λουλούδια;

